

රූප 9: පහත නැගීමේ සංකීර්ණ

1, 1, 1, 1, 1, 1, ...	(1 නැගීම)
1, 2, 2, 2, 2, 2, ...	(සංකීර්ණ 2)
1, 2, 2, 2, 2, 2, ...	(2 නැගීම)
1, 2, 2, 2, 2, 2, ...	(2 නැගීම)
1, 2, 2, 2, 2, 2, ...	(2 නැගීම)
1, 2, 2, 2, 2, 2, ...	(2 නැගීම)
1, 2, 2, 2, 2, 2, ...	(2 නැගීම)
1, 2, 2, 2, 2, 2, ...	(2 නැගීම)
1, 2, 2, 2, 2, 2, ...	(2 නැගීම)
1, 2, 2, 2, 2, 2, ...	(2 නැගීම)

☀ නිදහස

1. රූප 9 නැගීමේ සංකීර්ණ සංකීර්ණයේ සංකීර්ණය කුමක් වේ?
2. රූප 9 නැගීමේ සංකීර්ණ සංකීර්ණයේ සංකීර්ණය කුමක් වේ? සංකීර්ණයේ සංකීර්ණය කුමක් වේ? සංකීර්ණයේ සංකීර්ණය කුමක් වේ?

































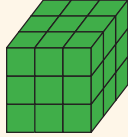
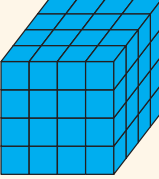

සංකීර්ණයේ සංකීර්ණය කුමක් වේ?

9.8 සංකීර්ණ නැගීමේ සංකීර්ණ

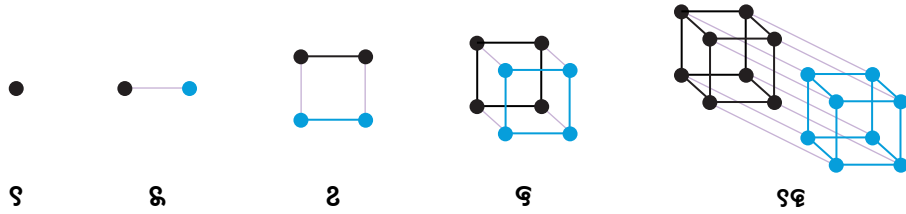
සංකීර්ණ නැගීමේ සංකීර්ණයේ සංකීර්ණය කුමක් වේ? සංකීර්ණයේ සංකීර්ණය කුමක් වේ? සංකීර්ණයේ සංකීර්ණය කුමක් වේ? සංකීර්ණයේ සංකීර්ණය කුමක් වේ?

සංකීර්ණ නැගීමේ සංකීර්ණයේ සංකීර්ණය කුමක් වේ? සංකීර්ණයේ සංකීර්ණය කුමක් වේ? සංකීර්ණයේ සංකීර්ණය කුමක් වේ? සංකීර්ණයේ සංකීර්ණය කුමක් වේ?

ଅବସ୍ଥାନ ୫: ଖଣି ଗଠିତାପରୁ ଖଣିଆମ୍ବ ଗାଣିତିକ ସଂଖ୍ୟା

					୧ ଗୁଣାକାଳ
୧	୨	୩	୪	୫	
					ଖଣିଆ ଖଣି
୧	୩	୬	୧୦	୧୫	ଖଣିଆଖଣି
					ଅଧିକାଳ ଖଣି
୧	୪	୯	୧୬	୨୫	ଖଣିଆଖଣି
					ଅଧିକାଳ ଖଣି
୧	୪	୯	୧୬	୨୫	ଖଣିଆଖଣି
					ଅଧିକାଳ ଖଣି
୧	୬	୧୫	୨୫	୩୬	ଖଣିଆଖଣି
					ଖଣିଆଖଣି
୧	୪	୯	୧୬	୨୫	ଖଣିଆଖଣି
					ଖଣିଆଖଣି
୧	୮	୨୭	୬୪	୧୨୫	ଖଣିଆଖଣି

ආර්ථික සැලසුම් සැලසුම් ගොඩනැගීමේදී සැලසුම් කළ යුතු පරිදි සැලසුම් කළ යුතු ආකාරය පෙන්වා දීම:



3.2 සමාන ආකාරයෙන් සැලසුම් කළ යුතු ආකාරය

සමාන ආකාරයෙන් සැලසුම් කළ යුතු ආකාරය පෙන්වා දීම.

ප්‍රශ්න: ඒකාකාරී ආකාරයෙන් සැලසුම් කළ යුතු ආකාරය පෙන්වා දීම.

$$\begin{aligned}
 1 &= 1 \\
 1 + 1 &= 2 \\
 1 + 1 + 1 &= 3 \\
 1 + 1 + 1 + 1 &= 4 \\
 1 + 1 + 1 + 1 + 1 &= 5 \\
 1 + 1 + 1 + 1 + 1 + 1 &= 6
 \end{aligned}$$

ආකාරයෙන් සැලසුම් කළ යුතු ආකාරය පෙන්වා දීම.

සමාන ආකාරයෙන් සැලසුම් කළ යුතු ආකාරය පෙන්වා දීම.

සමාන ආකාරයෙන් සැලසුම් කළ යුතු ආකාරය


සමාන ආකාරයෙන් සැලසුම් කළ යුතු ආකාරය පෙන්වා දීම.

ආකාරයෙන් සැලසුම් කළ යුතු ආකාරය පෙන්වා දීම.



ආකාරයෙන් සැලසුම් කළ යුතු ආකාරය පෙන්වා දීම.


☀ උච්ඡාල සූර්‍යයේ සෛලයේ සංඛ්‍යාවේ වෙනසක් ඇතිවන අතර ආකාරය කුමක් වේ?




☀ සිතියම

1. උච්ඡාල සූර්‍යයේ වෙනස් වන සෛල සංඛ්‍යාවේ වෙනසක් ඇතිවන අතර ආකාරය කුමක් වේ? සූර්‍යය
2. උච්ඡාල සූර්‍යයේ වෙනස් වන සෛල සංඛ්‍යාවේ වෙනසක් ඇතිවන අතර ආකාරය කුමක් වේ? උදාහරණයක් ලෙස $1 + 2 + 3 + \dots + 100 + 100 + \dots + 2 + 1$ වැනි වෙනස් වන සෛල සංඛ්‍යාවේ වෙනසක් ඇතිවන අතර ආකාරය කුමක් වේ?
3. උච්ඡාල සූර්‍යයේ වෙනස් වන සෛල සංඛ්‍යාවේ වෙනසක් ඇතිවන අතර ආකාරය කුමක් වේ? උදාහරණයක් ලෙස $1 + 2 + 3 + \dots + 100 + 100 + \dots + 2 + 1$ වැනි වෙනස් වන සෛල සංඛ්‍යාවේ වෙනසක් ඇතිවන අතර ආකාරය කුමක් වේ?
4. උච්ඡාල සූර්‍යයේ වෙනස් වන සෛල සංඛ්‍යාවේ වෙනසක් ඇතිවන අතර ආකාරය කුමක් වේ? උදාහරණයක් ලෙස $1 + 2 + 3 + \dots + 100 + 100 + \dots + 2 + 1$ වැනි වෙනස් වන සෛල සංඛ්‍යාවේ වෙනසක් ඇතිවන අතර ආකාරය කුමක් වේ?
5. උච්ඡාල සූර්‍යයේ වෙනස් වන සෛල සංඛ්‍යාවේ වෙනසක් ඇතිවන අතර ආකාරය කුමක් වේ? උදාහරණයක් ලෙස $1 + 2 + 3 + \dots + 100 + 100 + \dots + 2 + 1$ වැනි වෙනස් වන සෛල සංඛ්‍යාවේ වෙනසක් ඇතිවන අතර ආකාරය කුමක් වේ?


രൂപങ്ങളുടെ വിഭജനം: ജ്യാമിതികളുടെ വിഭജനം - ജ്യാമിതികളുടെ വിഭജനം




രൂപം




ചതുരകം




അയ്യപ്പകോണി




ആറുകോണി




ആറുകോണി



ആറുകോണി




ഒമ്പതുകോണി

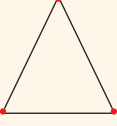


ഒമ്പതുകോണി

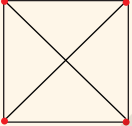
ജ്യാമിതികളുടെ വിഭജനം



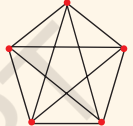
രേഖ




രേഖ



രേഖ





രേഖ





രേഖ


ജ്യാമിതികളുടെ വിഭജനം












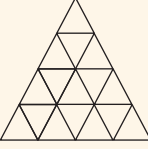


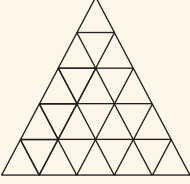
ജ്യാമിതികളുടെ വിഭജനം
















ജ്യാമിതികളുടെ വിഭജനം











ജ്യാമിതികളുടെ വിഭജനം

