


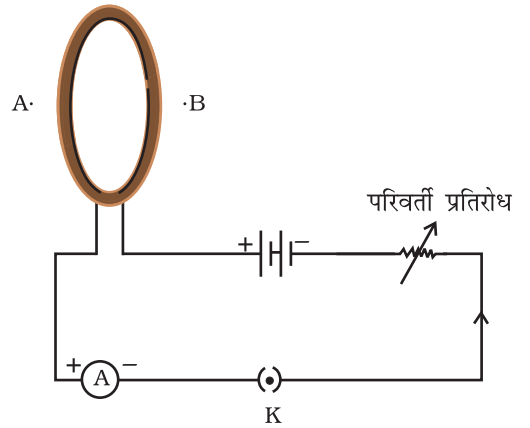
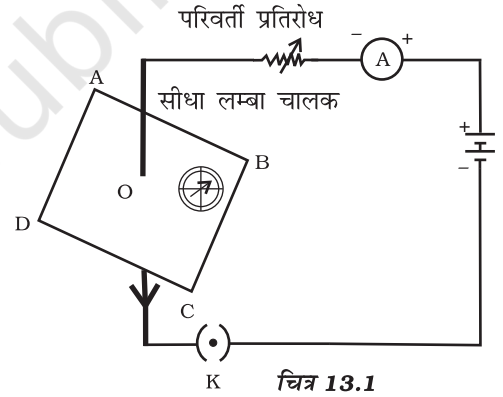
अध्याय 13

विद्युत धारा के चुंबकीय प्रभाव

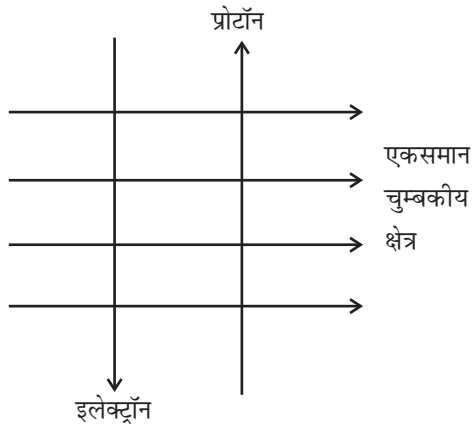


बहुविकल्पीय प्रश्न

- चुंबकीय क्षेत्र रेखाओं के संबंध में निम्न में से असत्य प्रकथन का चयन कीजिए:
 - किसी बिंदु पर चुंबकीय क्षेत्र की दिशा वह होती है जिस ओर किसी चुंबकीय दिक्सूची का उत्तर ध्रुव संकेत करता है
 - चुंबकीय क्षेत्र रेखाएँ बंद वक्र की होती हैं
 - यदि चुंबकीय क्षेत्र रेखाएँ समांतर तथा समदूरस्थ हैं, तो वे शून्य क्षेत्र तीव्रता को निरूपित करती हैं
 - चुंबकीय क्षेत्र की आपेक्षिक प्रबलता क्षेत्र रेखाओं की निकटता की कोटि द्वारा दर्शायी जाती है
- यदि चित्र 13.1 की व्यवस्था में प्लग से कुंजी निकाल कर (परिपथ को खोल कर) क्षैतिज तल ABCD पर चुंबकीय क्षेत्र रेखाएँ खींचें तो ये रेखाएँ होती हैं:
 - संकेद्री वृत्त
 - दीर्घवृत्ताकार
 - एक दूसरे के समांतर सरल रेखाएँ
 - बिंदु O के निकट संकेद्री वृत्त परंतु दूर जाने पर दीर्घवृत्ताकार
- कागज के तल के लंबवत् तल में रखे वृत्ताकार पाश में कुंजी को बंद करने पर धारा प्रवाहित होती है। बिंदु A तथा B (जो कागज के तल में तथा पाश के अक्ष पर हैं) से देखने पर पाश में प्रवाहित धारा क्रमशः वामावर्त तथा दक्षिणावर्त है। चुंबकीय क्षेत्र रेखाएँ B से A की ओर संकेत करती हैं। परिणामी चुंबक का उत्तर ध्रुव उस फलक पर होगा जो निकट है
 - बिंदु A के
 - बिंदु B के
 - बिंदु A के यदि धारा कम है, तथा बिंदु B के यदि धारा अधिक है
 - बिंदु B के यदि धारा कम है, तथा बिंदु A के यदि धारा अधिक है



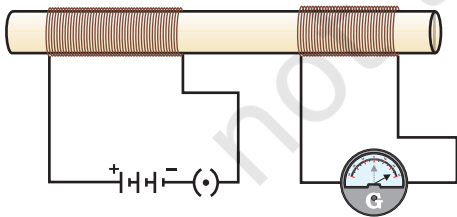
4. किसी लंबी सीधी परिनालिका में धारा प्रवाहित करने पर इसके दोनों सिरों पर N तथा S ध्रुव बन जाते हैं। निम्न में से कौन-सा असत्य प्रकथन है?
- परिनालिका के भीतर क्षेत्र रेखाएँ, सरल रेखाओं के रूप में होती हैं जो यह निर्दिष्ट करता हैं कि परिनालिका के भीतर सभी बिंदुओं पर चुंबकीय क्षेत्र समान होता है
 - परिनालिका के भीतर उत्पन्न प्रबल चुंबकीय क्षेत्र का उपयोग चुंबकीय पदार्थ जैसे नर्म लोहे के टुकड़ों को, परिनालिका के भीतर रखकर, चुंबकित करने में किया जा सकता है
 - परिनालिका से संबद्ध चुंबकीय क्षेत्र का पैटर्न छड़ चुंबक के चारों ओर के चुंबकीय क्षेत्र के पैटर्न से भिन्न होता है
 - परिनालिका में प्रवाहित धारा की दिशा उत्क्रमित करने पर N तथा S ध्रुवों की अदला-बदली हो जाती है



चित्र 13.3

5. चित्र 13.3 में दर्शाए अनुसार कागज के तल में बाएं से दायीं ओर संकेत करते हुए कोई एक समान चुंबकीय क्षेत्र है। चित्र में दर्शाए अनुसार एक इलेक्ट्रॉन तथा एक प्रोटॉन इस चुंबकीय क्षेत्र में गति करते हैं। इलेक्ट्रॉन तथा प्रोटॉन द्वारा अनुभव बलों की दिशाएँ क्या हैं?
- दोनों पर कागज के तल की ओर संकेत करते हुए
 - दोनों कागज के तल से बाहर की ओर संकेत करते हुए
 - इलेक्ट्रॉन पर कागज के तल की ओर तथा प्रोटॉन पर कागज के तल से बाहर की ओर संकेत करते हुए
 - इलेक्ट्रॉन पर एक समान चुंबकीय क्षेत्र की दिशा के विपरीत तथा प्रोटॉन पर क्षेत्र की दिशा के अनुदिश संकेत करते हुए

6. व्यापारिक विद्युत मोटरों में निम्नलिखित में से किसका उपयोग नहीं किया जाता है?
- आर्मेचर को घूर्णित करने के लिए विद्युत चुंबक
 - विद्युतवाही कुंडली में चालक तार के फेरों की प्रभावी अधिक संख्या
 - आर्मेचर को घूर्णित करने के लिए स्थायी चुंबक
 - कुंडली को लपेटने के लिए नर्म लोह या कोड



चित्र 13.4

7. चित्र 13.4 में दर्शायी गयी व्यवस्था में दो कुंडलियाँ किसी अचालक बेलनाकार छड़ पर लिपटी हैं। आरंभ में प्लग में कुंजी नहीं लगी है। इसके पश्चात् प्लग में कुंजी लगाकर फिर हटा ली जाती है। तब
- गैल्वेनोमीटर में सदैव विक्षेप शून्य रहता है
 - गैल्वेनोमीटर में क्षणिक विक्षेप होता है परंतु यह शीघ्र ही समाप्त हो जाता है तथा प्लग को हटाने पर इस पर कोई प्रभाव नहीं पड़ता
 - गैल्वेनोमीटर में क्षणिक विक्षेप होते हैं जो शीघ्र ही समाप्त हो जाते हैं। ये विक्षेप समान दिशा में होते हैं
 - गैल्वेनोमीटर में क्षणिक विक्षेप होते हैं जो शीघ्र ही समाप्त हो जाते हैं। ये विक्षेप विपरीत दिशाओं में होते हैं

8. निम्नलिखित में असत्य प्रकथन का चयन कीजिए:
- प्रेरित धारा की दिशा जानने के लिए फ्लेमिंग दक्षिण हस्त नियम एक सरल नियम है
 - धारावाही चालक के चुंबकीय क्षेत्र की दिशा जानने के लिए दक्षिण हस्त अंगुष्ठ नियम उपयोग किया जाता है
 - दिष्ट तथा प्रत्यावर्ती धाराओं में यह अंतर है कि दिष्ट धारा सदैव एक ही दिशा में प्रवाहित होती है, जबकि प्रत्यावर्ती धारा की दिशा आवर्ती रूप से उत्क्रमित होती है
 - भारत में प्रत्यावर्ती धारा में प्रत्येक $\frac{1}{50}$ सेकंड के पश्चात दिशा परिवर्तन होता है

9. चित्र 13.5 में दर्शाए अनुसार कागज के तल में स्थित किसी क्षैतिज तार में पूर्व से पश्चिम की ओर कोई नियत धारा प्रवाहित हो रही है। चुंबकीय क्षेत्र की दिशा उत्तर से दक्षिण की ओर उस बिंदु पर होगी जो

- तार के ठीक ऊपर है
- तार के ठीक नीचे है
- कागज के तल में तार के उत्तर में स्थित है
- कागज के तल में तार के दक्षिण में स्थित है

10. किसी लंबी सीधी धारावाही परिनालिका के भीतर चुंबकीय क्षेत्र की तीव्रता

- केंद्र की अपेक्षा सिरों पर अधिक होती है
- मध्य में सबसे कम होती है
- सभी बिंदुओं पर समान होती है
- एक सिरे से दूसरे सिरे की ओर बढ़ती जाती है

11. AC जनित्र को DC जनित्र में परिवर्तित करने के लिए

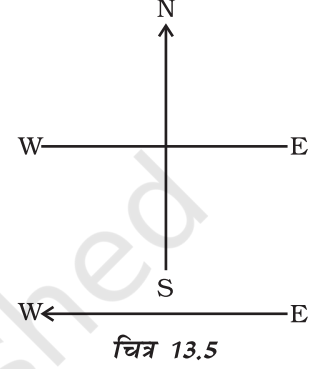
- विभक्त वलय दिक्परिवर्तक का उपयोग किया जाता है
- सर्पी वलयों एवं ब्रुशों का उपयोग किया जाता है
- अधिक प्रबल चुंबकीय क्षेत्र का उपयोग किया जाता है
- तार के आयताकार पाश का उपयोग किया जाता है

12. घरेलू साधनों को लघुपथन अथवा अतिभारण से बचाने के लिए उपयोग किया जाने वाला सर्वाधिक महत्वपूर्ण सुरक्षा उपाय क्या है?

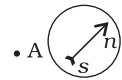
- भूसंपर्कण
- फ्यूज का उपयोग
- स्टैबिलाइजर (Stabilizer) का उपयोग
- विद्युत मीटरों का उपयोग

लघुउत्तरीय प्रश्न

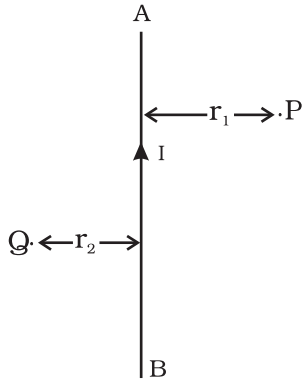
13. कोई चुंबकीय दिक्सूची चित्र 13.6 में दर्शाए अनुसार कागज के तल में बिंदु A के समीप रखी है। किसी सीधे धारावाही चालक को बिंदु A से गुजरते हुए किस तल में रखें ताकि दिक्सूची के विक्षेप में कोई परिवर्तन न हो? किस स्थिति में विक्षेप अधिकतम होगा और क्यों?



चित्र 13.5



चित्र 13.6



चित्र 13.7

14. धारावाही परिनालिका के उपयोग द्वारा किन अवस्थाओं में स्थायी विद्युत चुंबक प्राप्त किया जाता है? परिपथ आरेख खींचकर उत्तर की पुष्टि कीजिए।

15. चित्र 13.7 में दर्शाए अनुसार कागज के तल में कोई धारावाही चालक AB स्थित है। इसके द्वारा उत्पन्न चुंबकीय क्षेत्र के बिंदुओं P तथा Q पर दिशाएँ क्या हैं? दिया हुआ है कि $r_1 > r_2$ है, तब चुंबकीय क्षेत्र की प्रबलता कहाँ पर अधिक होगी?

16. किसी धारावाही तार के निकट चुंबकीय दिक्सूची रखने पर यह विक्षेप दर्शाती है। यदि तार में प्रवाहित धारा में वृद्धि कर दी जाए, तो दिक्सूची के विक्षेप पर क्या प्रभाव पड़ेगा? कारण सहित उत्तर की पुष्टि कीजिए।

17. यह स्थापित हो चुका है कि किसी धातु के चालक में विद्युत धारा प्रवाहित होने पर इसके चारों ओर चुंबकीय क्षेत्र उत्पन्न हो जाता है। क्या (i) एल्फा कणों तथा (ii) न्यूट्रॉनों के पतले पुंजों के गति करने पर भी इन पुंजों के चारों ओर इसी प्रकार के चुंबकीय क्षेत्र उत्पन्न होंगे। अपने उत्तर की पुष्टि कीजिए।

18. दक्षिण-हस्त अंगुष्ठ नियम में अंगूठे की दिशा क्या निर्दिष्ट करती है? यह नियम किस प्रकार फ्लेमिंग वामहस्त नियम से भिन्न है?

19. मीना किसी धारावाही वृत्ताकार पाश के अक्ष के निकट चुंबकीय क्षेत्र रेखाएँ खींचती है। वृत्ताकार पाश के केंद्र से दूर जाने पर वह यह प्रेक्षण करती है कि चुंबकीय रेखाएँ अपसरित हो रही हैं। आप उसके प्रेक्षण का स्पष्टीकरण कैसे करेंगे?

20. किसी सीधी धारावाही परिनालिका के सिरों के निकट चुंबकीय क्षेत्र रेखाओं का अपसरण क्या निर्दिष्ट करता है?

21. ऐसे चार साधित्रों के नाम लिखिए जिनमें विद्युत मोटर, विद्युत ऊर्जा को यांत्रिक ऊर्जा में रूपांतरित करने वाली घूर्णीयुक्ति का उपयोग एक महत्वपूर्ण अवयव के रूप में किया जाता है। विद्युत मोटर किस प्रकार जनित्र से भिन्न होती है?

22. सरल विद्युत मोटर में दो स्थिर चालक ब्रुशों की क्या भूमिका होती है?

23. दिष्ट धारा तथा प्रत्यावर्ती धारा में क्या अंतर है? भारत में उपयोग होने वाली प्रत्यावर्ती धारा की दिशा एक सेकंड में कितनी बार परिवर्तित होती है?

24. किसी भी विद्युत साधित्र के साथ श्रेणी क्रम में उपयोग किए जाने वाले फ्यूज की क्या भूमिका होती है? किसी निर्धारित अनुमतांक के फ्यूज को अधिक अनुमतांक के फ्यूज द्वारा प्रतिस्थापित क्यों नहीं करना चाहिए?

दीर्घउत्तरीय प्रश्न

25. उत्तर दक्षिण की ओर संकेत करने वाली चुंबकीय दिक्सूची, जिसके समीप कोई चुंबक नहीं है, के निकट कोई छड़ चुंबक अथवा धारावाही पाश लाने पर, विक्षेपित क्यों हो जाती है? चुंबकीय क्षेत्र रेखाओं की परिकल्पना के कुछ प्रमुख लक्षणों का वर्णन कीजिए।

26. नामांकित परिपथ आरेख की सहायता से किसी सीधे लंबे धारावाही चालक तार के चारों ओर की चुंबकीय क्षेत्र रेखाओं के पैटर्न की व्याख्या कीजिए। किसी धारावाही चालक से संबद्ध चुंबकीय क्षेत्र की दिशा ज्ञात करने में दक्षिण-हस्त अंगुष्ठ नियम किस प्रकार उपयोगी है?

27. किसी वृत्ताकार पाश में प्रवाहित धारा के कारण चुंबकीय क्षेत्र का आरेख खींचिए। ऐसा क्यों है कि n फेरों की किसी वृत्ताकार कुंडली से किसी बिंदु पर उत्पन्न चुंबकीय क्षेत्र एक फेरे द्वारा उसी बिंदु पर उत्पन्न क्षेत्र का n गुना होता है।
28. उस क्रियाकलाप का वर्णन कीजिए जो यह दर्शाता है कि किसी चुंबकीय क्षेत्र में स्थित कोई धारावाही चालक एक बल अनुभव करता है जो उसकी लंबाई तथा बाह्य चुंबकीय क्षेत्र के लंबवत् होता है। फ्लेमिंग का वामहस्त नियम किसी धारावाही चालक पर लगने वाले बल की दिशा ज्ञात करने में हमारी सहायता किस प्रकार करता है? स्पष्ट कीजिए।
29. किसी सरल विद्युत मोटर का नामांकित परिपथ आरेख खींचकर इसकी कार्यविधि स्पष्ट कीजिए। सरल विद्युत मोटर व्यापारिक मोटरों से किस प्रकार भिन्न होते हैं?
30. वैद्युत चुंबकीय प्रेरण की परिघटना स्पष्ट कीजिए। यह दर्शाने के लिए किसी प्रयोग का वर्णन कीजिए कि जब किसी बंद पाश से गुजरने वाले बाह्य चुंबकीय क्षेत्र में कमी अथवा वृद्धि होती है, तो उस पाश में विद्युतधारा प्रवाहित होती है।
31. नामांकित परिपथ आरेख की सहायता से किसी AC जनित्र की कार्यविधि का वर्णन कीजिए। इसे DC जनित्र में परिवर्तित करने के लिए इस व्यवस्था में क्या परिवर्तन किए जाने चाहिए?
32. सामान्य घरेलू परिपथों को दर्शाने वाला कोई उचित व्यवस्था आरेख खींचकर फ्यूज के महत्व का वर्णन कीजिए। ऐसा क्यों है कि किसी जले हुए फ्यूज का प्रतिस्थापन सर्वसम अनुमतांक के अन्य फ्यूज द्वारा ही किया जाना चाहिए?